

Zábavné aktivity na cesty




cestovateľské bingo



štvorsmerovka

omaľovánky



slepá mapa

doplňovačka

Milé deti a rodičia!

Pripravila som pre Vás zopár zábavných aktivít, ktorými sa môžete zabaviť počas Vašej cesty autom, autobusom, vlakom prípadne lietadlom. Hrať sa môžete so súrodencom, rodičmi, sami alebo s kýmkoľvek, kto práve nešoféruje auto. Ideálne bude, ak si tieto listy vytlačíte.


Všetky aktivity sú tematicky zamerané na tému dovolenka a cestovanie.

Pre najmenších sú pripravené omaľovánky a hra Bingo, pri ktorej sledujete cestu a hľadáte vyobrazené osoby, dopravné značky, vozidlá alebo stavby. Pre školákov je pripravená doplnovačka, štvorsmerovka a slepá mapa. Pre najväčších školákov a zemepisných nadšencov sú pripravené textové otázky na doplnenie krajín, priradovanie zástav a mestských znakov. Nájdete tu aj zopár zaujímavých NAJ.

Želám Vám príjemné zábavné cestovanie.

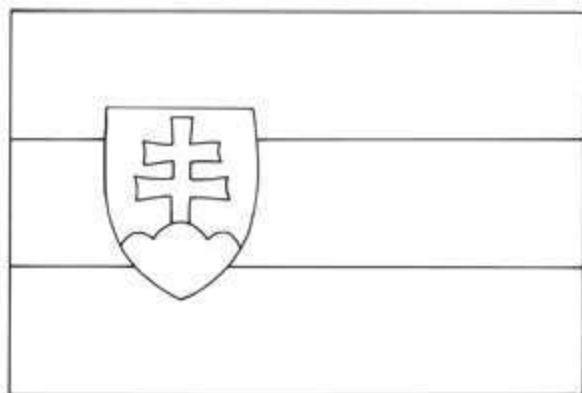
Petra

O
m
a
l
o
v
á
n
k
y


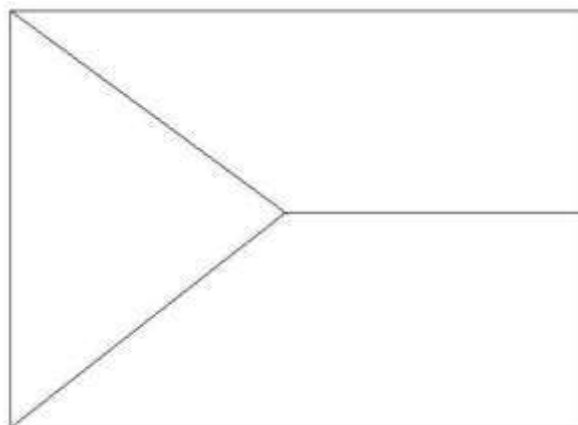


Zdroj: omalovanky.sk

Vlajka Slovenskej republiky



Vlajka Českej republiky



BINGO - DOPRAVNÉ PROSTRIEDKY

Pravidlá hry: Cestujúci v aute si rozďajú niektoré z podkladových kariet, najlepšie je, ak má každý inú. Kto uvidí cestou predmet, osobu alebo zvieratko z obrázka, poznačí si ho. Kto spojí celý riadok, stĺpec alebo diagonálny riadok, zvolá bingo a vyhráva.

autobus



obytný prívies



bicykel



horkovzdušný balón



nákladné auto, kamión



motorka, skúter



traktor



vrtaľník



kombajn



BINGO - DOPRAVNÉ ZNAČKY



BINGO - STAVBY

rozhľadňa, posed



solárny panel



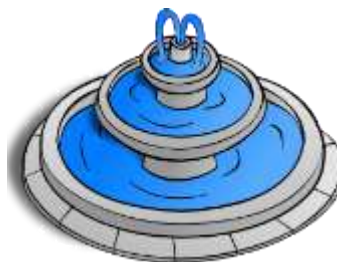
stan



hasičská zbrojnica



fontána



hrad, zámok



drevený záchod, kadibudka



kostol



továreň, fabrika



BINGO - OSOBY

futbalista



mamička s kočíkom



policajt



rybár



turista



deti



Bežkyňa, bežec



opravár cesty, cestár



stopár



BINGO - ZVIERATÁ A PRÍRODA

ihličnatý strom



krava



rieka, potok



slama, stoh



pes



listnatý strom



kohút



srnka, srnec



kôň



SVETOVÉ NAJ

Vedeli ste?

- ❖ Najvyšší vrch sveta - Mount Everest - 8848 metrov nad morom
- ❖ Najhlbšie miesto na zemskom povrchu – Mariánska priekopa – 10 994 metrov pod morom
- ❖ Najväčší ostrov – Grónsko
- ❖ Najväčší poloostrov – Arabský poloostrov
- ❖ Najľudnatejšia krajina – Čína, 1,386 miliárd
- ❖ Najľudnatejšie mesto – Tokio – 38 miliónov
- ❖ Najdlhšia rieka – Amazonka, 6992 km
- ❖ Najvyšší vodopád – Angelov, Venezuela – 979 metrov
- ❖ Najväčšia púšť – Sahara
- ❖ Najväčšia krajina – Rusko
- ❖ Najmenšia krajina – Vatikán
- ❖ Najsevernejšie mesto sveta – Longyearbyen, Nórsko
- ❖ Najjužnejšie mesto sveta – Ushuaia, Argentína
- ❖ Najväčšie jazero – Kaspické more
- ❖ Najväčší oceán - Tichý
- ❖ Najteplejšie miesto na planéte – Death Valley, USA
- ❖ Najchladnejšie celoročne obývané miesto na planéte – Ojmjakon v Rusku
- ❖ Najvyššia budova – Burj Khalifa, Dubaj – 828 metrov nad morom

Štvorsmerovka

V tabuľke nájdí a vyčiarkni názvy dolu uvedených slovenských a českých miest. Zostávajúcich 9 písmen tvorí tajničku.

A	P	R	B	R	N	O	Á	L	A
V	P	P	R	A	H	A	S	O	Š
A	R	A	A	N	Í	L	O	K	A
N	E	V	T	I	S	O	V	E	C
R	Š	A	I	N	Z	R	I	T	I
T	O	P	S	S	D	A	N	I	L
Z	V	O	L	E	N	V	E	V	A
N	I	Š	A	H	Y	A	C	S	K
N	Y	E	V	R	A	N	O	V	S
O	N	D	A	L	K	N	Í	L	Z

Snina, Bratislava, Praha, Brno, Trnava, Opava, Tisovec, Orava, Vranov, Zvolen, Skalica, Kladno, Kolín, Loket, Sovinec, Prešov, Aš, Eš, Svit, Šahy, Zlín



Tajnička: _ _ _ _ _

Uhádnete, o ktorej krajine hovoríme?

- Šalát Tzatziki, Akropola, ostrovy Kréta, Santorini... = _____
- Eiffelova veža, syr camembert, rieka Loira, pétanque = _____
- Javorový sirup, Niagarské vodopády, Quebec = _____
- Špagety, Koloseum, parmezán, FC Lazio Rím = _____
- Hamburger, Indiáni, Hollywood = _____
- Čokoláda, vrch Matterhorn, tenista Roger Federer = _____
- Bryndzové halušky – valaška – Vysoké Tatry = _____
- Gejzíry – ostrov – Reykjavík = _____
- Pyramídy, Červené more, Údolie kráľov = _____
- Aztékovia, sombrero, kaktusy = _____
- Býčie zápasy, Madrid, tanec Flamenco = _____
- Štiplává paprika, Pusta, čabajka = _____




Nápoveda: Island, Slovensko, USA, Španielsko, Francúzsko, Taliansko, Kanada, Grécko, Švajčiarsko, Egypt, Mexiko

Viete, ktorej krajine patrí ktorá vlajka? Nápovedu nájdete v pravej časti listu.



Japonsko, Čína, Izrael, Turecko, USA, Kanada, Nový Zéland, Švajčiarsko, Grécko, India, Taliansko, Fínsko

Viete ktorý erb patrí ktorému mestu? Nápovedu nájdete na pravej strane listu.



a) Piešťany, b) Trenčín, c) Bratislava, d) Pezinok, e) Poprad, f) Nitra, g) Ružomberok,
h) Spíšská Nová Ves, i) Topoľčany

Správne odpovede: 1b, 2i, 3 f, 4 c, 5 d, 6 g, 7e, 8 h, 9 a

Slepá mapa kontinentov

Doplň názvy svetadielov podľa farieb. Každému štvorčeku pridaj názov.

